

模块一 同角三角函数关系与诱导公式

第1节 三角函数的定义 (★★)

内容提要

若题干给出角的终边上某点的坐标,或给出角的终边所在直线的方程,考虑用三角函数定义求三角函数值,有下面两种等价的定义方法:

1. 如图1, 设 $P(x,y)$ 为角 α 终边与单位圆 $x^2 + y^2 = 1$ 的交点, 则 $\sin \alpha = y$, $\cos \alpha = x$, $\tan \alpha = \frac{y}{x}$.
2. 如图2, 设 $P(x,y)$ 为角 α 终边上一点, $r = |OP| = \sqrt{x^2 + y^2}$, 则 $\sin \alpha = \frac{y}{r}$, $\cos \alpha = \frac{x}{r}$, $\tan \alpha = \frac{y}{x} (x \neq 0)$.

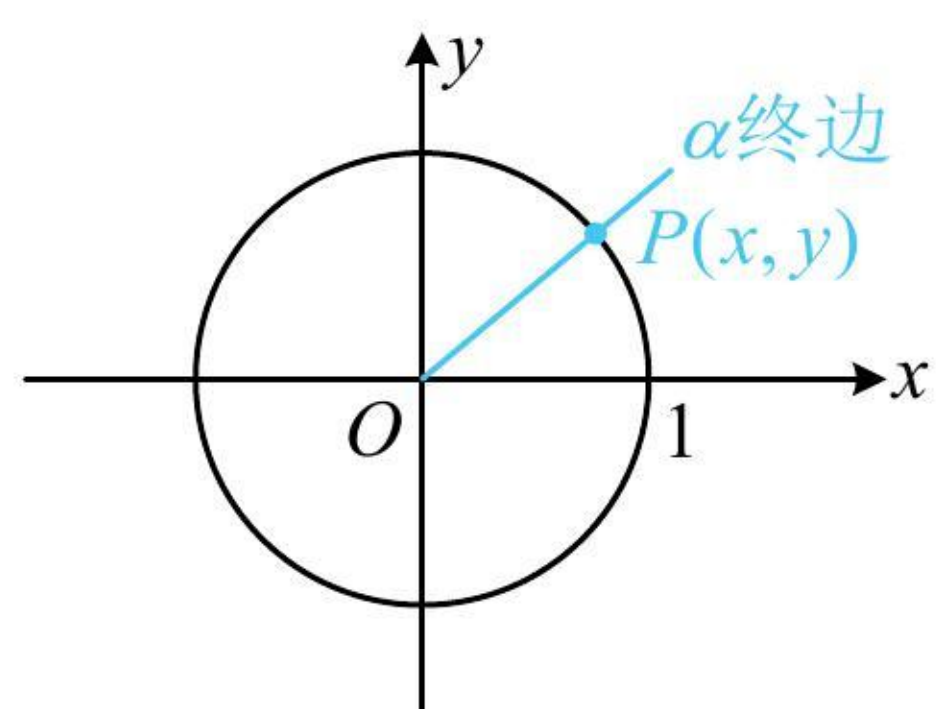


图1

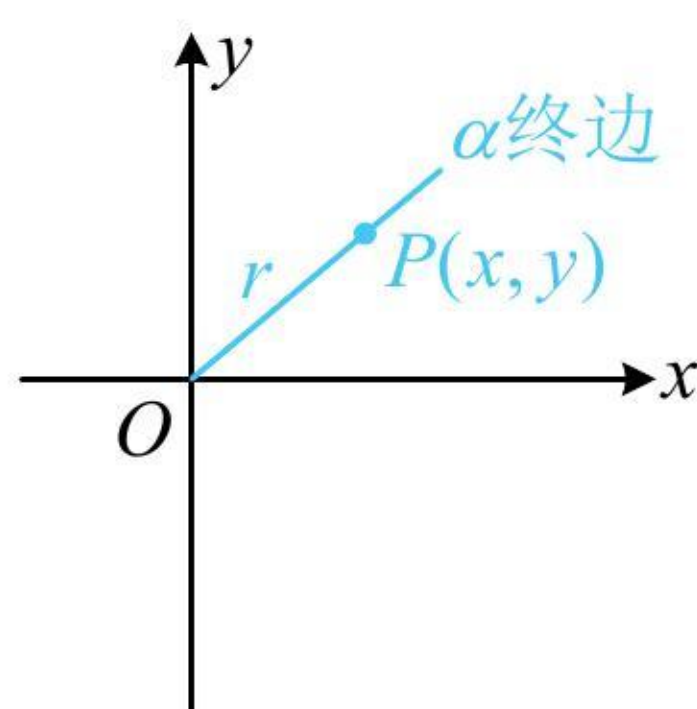


图2

典型例题

【例1】已知角 α 的终边经过点 $P(3, -4)$, 则 $\cos \alpha = (\quad)$

- (A) $-\frac{4}{5}$ (B) $-\frac{3}{5}$ (C) $\frac{4}{5}$ (D) $\frac{3}{5}$

解析: 由题意, $r = |OP| = 5$, 所以 $\cos \alpha = \frac{x}{r} = \frac{3}{5}$.

答案: D

【变式1】角 θ 的顶点为坐标原点, 始边为 x 轴的非负半轴, 若 $P(4, y)$ 是角 θ 终边上一点, 且 $\sin \theta = -\frac{2\sqrt{5}}{5}$,

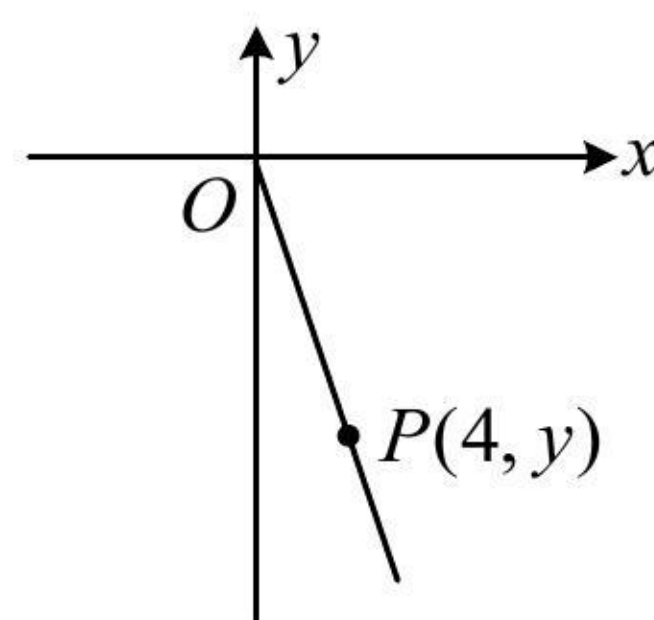
则 $y = \underline{\hspace{2cm}}$.

解析: 给出角终边上的一点的坐标, 联想到三角函数的定义, 所以先用定义计算 $\sin \theta$,

如图, $\sin \theta = \frac{y}{|OP|} = \frac{y}{\sqrt{16+y^2}}$, 又 $\sin \theta = -\frac{2\sqrt{5}}{5}$, 所以 $\frac{y}{\sqrt{16+y^2}} = -\frac{2\sqrt{5}}{5}$,

由上式可看出 $y < 0$, 平方后可求得 $y = -8$.

答案: -8



【变式 2】已知角 α 的终边经过点 $P(\sin 47^\circ, \cos 47^\circ)$, 则 $\sin(\alpha - 13^\circ) = (\quad)$

- (A) $\frac{1}{2}$ (B) $\frac{\sqrt{3}}{2}$ (C) $-\frac{1}{2}$ (D) $-\frac{\sqrt{3}}{2}$

解法 1: 给出角终边上的一点的坐标, 联想到三角函数的定义, 先用定义计算 $\sin \alpha$ 和 $\cos \alpha$,

因为 $|OP| = \sqrt{\sin^2 47^\circ + \cos^2 47^\circ} = 1$, 所以 P 是 α 的终边与单位圆的交点, 故 $\sin \alpha = \cos 47^\circ$, $\cos \alpha = \sin 47^\circ$,

所以 $\sin(\alpha - 13^\circ) = \sin \alpha \cos 13^\circ - \cos \alpha \sin 13^\circ = \cos 47^\circ \cos 13^\circ - \sin 47^\circ \sin 13^\circ = \cos(47^\circ + 13^\circ) = \cos 60^\circ = \frac{1}{2}$.

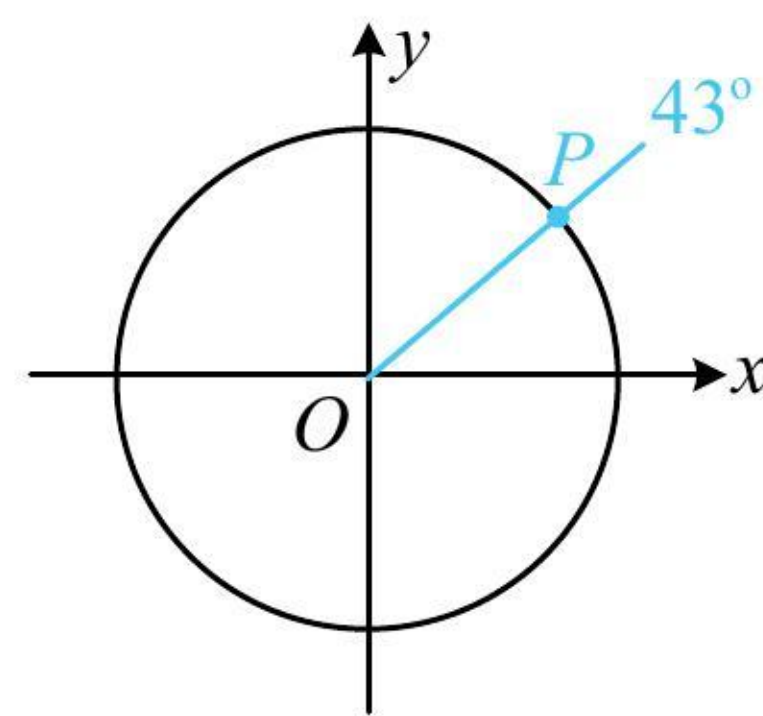
解法 2: 将所给的点 P 的坐标用诱导公式转换成三角函数定义的格式 $P(\cos \alpha, \sin \alpha)$, 可直接求出 α ,

因为 $\sin 47^\circ = \sin(90^\circ - 43^\circ) = \cos 43^\circ$, $\cos 47^\circ = \cos(90^\circ - 43^\circ) = \sin 43^\circ$,

所以点 P 的坐标可化为 $(\cos 43^\circ, \sin 43^\circ)$, 如图, 结合三角函数定义可得 α 的终边与 43° 的终边重合,

从而 $\alpha = k \cdot 360^\circ + 43^\circ (k \in \mathbf{Z})$, 故 $\sin(\alpha - 13^\circ) = \sin(k \cdot 360^\circ + 43^\circ - 13^\circ) = \sin 30^\circ = \frac{1}{2}$.

答案: A



《一数·高考数学核心方法》

【反思】①当终边上的点的坐标是三角形式时, 应先将其化为 $(\cos \alpha, \sin \alpha)$ 这种标准格式, 才能用三角函数的定义; ②已知终边位置时, 需注意终边相同的角可以相差 $2k\pi (k \in \mathbf{Z})$.

【例 2】质点 P 和 Q 在以坐标原点 O 为圆心, 1 为半径的圆 O 上逆时针作匀速圆周运动, 同时出发. P 的角速度大小为 2rad/s , 起点为圆 O 与 x 轴正半轴的交点, Q 的角速度大小为 4rad/s , 起点为射线 $y = -\sqrt{3}x (x \geq 0)$ 与圆 O 的交点, 则当 P 与 Q 重合时, Q 的坐标为_____.

解析: P, Q 重合即射线 OP 和射线 OQ 重合, 可看成角的终边重合, 先把以 OP, OQ 为终边的角写出来, 设在时刻 t (单位: s), 以 OP, OQ 为终边的角分别为 α, β , 则 $\alpha = 2t$,

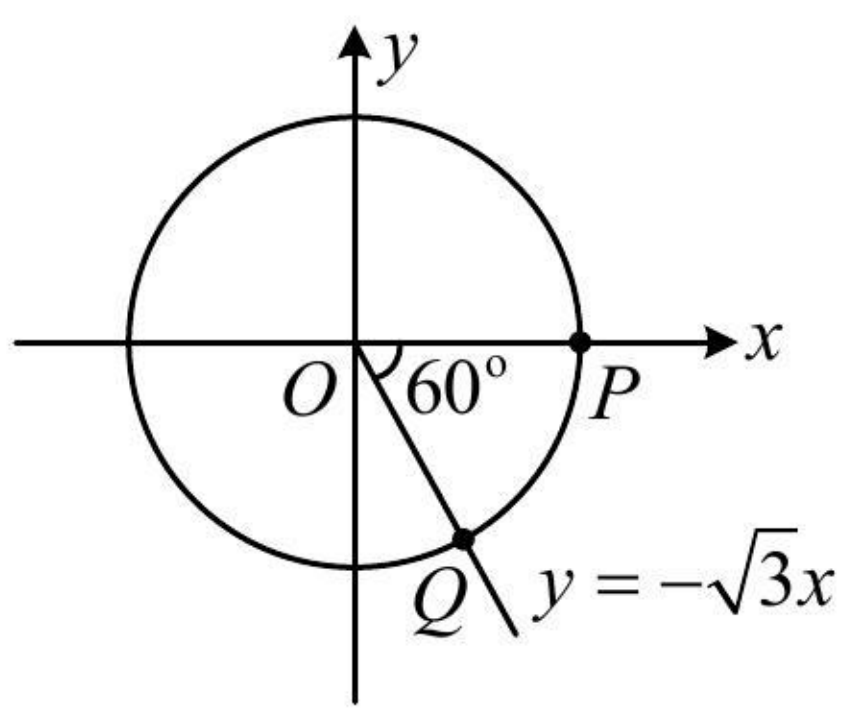
如图, 射线 $y = -\sqrt{3}x (x \geq 0)$ 可看成角 $-\frac{\pi}{3}$ 的终边, 所以 $\beta = -\frac{\pi}{3} + 4t$ ①,

从而当 P 与 Q 重合时, 应有 $\beta = \alpha + 2k\pi (k \in \mathbf{Z})$, 即 $-\frac{\pi}{3} + 4t = 2t + 2k\pi$, 故 $t = k\pi + \frac{\pi}{6}$,

代入①得: $\beta = -\frac{\pi}{3} + 4k\pi + \frac{2\pi}{3} = 4k\pi + \frac{\pi}{3}$, 点 Q 即为 β 与单位圆的交点, 可用三角函数定义求其坐标,

所以 $x_Q = \cos \beta = \cos(4k\pi + \frac{\pi}{3}) = \cos \frac{\pi}{3} = \frac{1}{2}$, $y_Q = \sin(4k\pi + \frac{\pi}{3}) = \sin \frac{\pi}{3} = \frac{\sqrt{3}}{2}$, 故点 Q 的坐标为 $(\frac{1}{2}, \frac{\sqrt{3}}{2})$.

答案: $(\frac{1}{2}, \frac{\sqrt{3}}{2})$



强化训练

1. (2022·宁夏模拟·★) 已知角 θ 的终边上有一点 $P(-4a, 3a)(a > 0)$, 则 $2\sin\theta + \cos\theta =$ ()

- (A) $-\frac{2}{5}$ (B) $\frac{2}{5}$ (C) $-\frac{2}{5}$ 或 $\frac{2}{5}$ (D) 不确定

2. (2022·安徽模拟·★) 已知角 α 终边上一点 $P(m, 4)(m \neq 0)$, 且 $\cos\alpha = \frac{m}{5}$, 则 $\tan\alpha =$ _____.

《一数·高考数学核心方法》

3. (★) 已知 $\tan\alpha = k$, 且 α 在第三象限, 则 $\sin\alpha =$ _____.(用 k 表示)

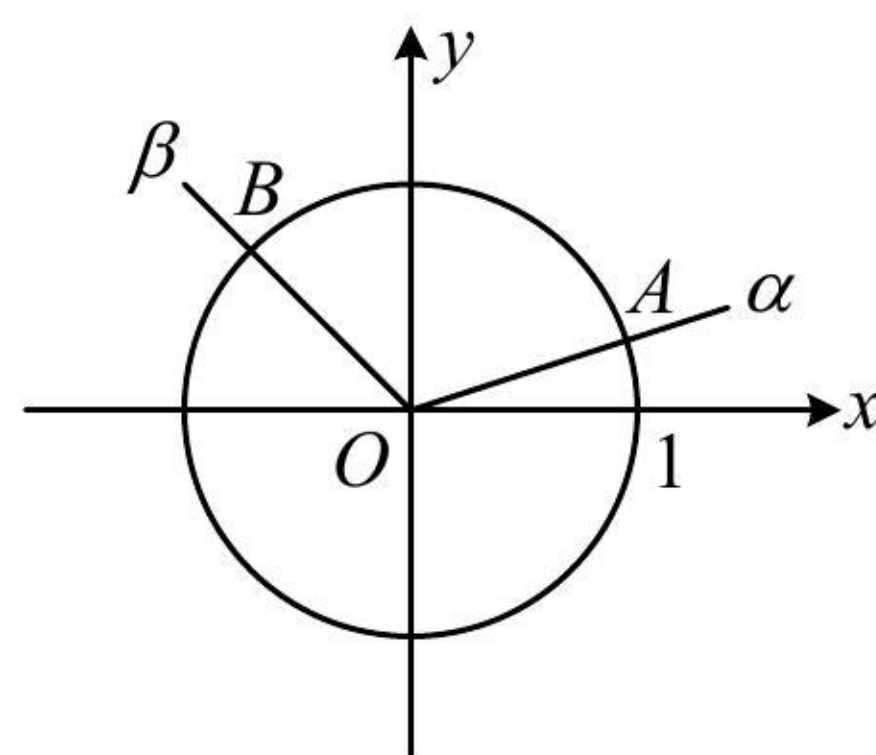
4. (2022·潍坊二模·★★) 已知角 α 的顶点为坐标原点, 始边与 x 轴的非负半轴重合, 点 $A(x_1, 2)$, $B(x_2, 4)$

在 α 的终边上, 且 $x_1 - x_2 = 1$, 则 $\tan\alpha =$ ()

- (A) 2 (B) $\frac{1}{2}$ (C) -2 (D) $-\frac{1}{2}$

5. (2022·湛江期末·★★★★) 如图, 角 α 的始边与 x 轴的非负半轴重合, 终边与单位圆交于点 $A(x_1, y_1)$, 角 $\beta = \alpha + \frac{2\pi}{3}$ 的始边与角 α 的始边重合, 且终边与单位圆交于点 $B(x_2, y_2)$, 记 $f(\alpha) = y_1 - y_2$, 若 α 为锐角, 则 $f(\alpha)$ 的取值范围是 ()

- (A) $(-\frac{1}{2}, \frac{\sqrt{3}}{2})$ (B) $(-\frac{1}{2}, \frac{3}{2})$ (C) $(-\frac{\sqrt{3}}{2}, \frac{1}{2})$ (D) $(-\frac{\sqrt{3}}{2}, \frac{3}{2})$



6. (2021·北京卷·★★★★) 若点 $A(\cos\theta, \sin\theta)$ 关于 y 轴的对称点为 $B(\cos(\theta + \frac{\pi}{6}), \sin(\theta + \frac{\pi}{6}))$, 写出 θ 的一个取值为_____.

《一数·高考数学核心方法》

7. (2022··★★★★) 已知角 α 的始边与 x 轴非负半轴重合, 终边上一点 $P(\sin 3, \cos 3)$, 若 $0 \leq \alpha \leq 2\pi$, 则 $\alpha =$ ()

- (A) 3 (B) $\frac{\pi}{2} - 3$ (C) $\frac{5\pi}{2} - 3$ (D) $3 - \frac{\pi}{2}$